



Projeto de Enriquecimento e Complemento Curricular
Plano Regional de Educação Rodoviária (PRER) 2017/2018
Projeto E - Taça Escolar de Educação Rodoviária – Fase Concelhia



Categoria A – 1º Ciclo do Ensino Básico - 11ª Edição

QUESTIONÁRIO (escrito)

0082

A PREENCHER PELO PARTICIPANTE (EM MAIÚSCULAS)


Estabelecimento de Ensino: _____

Nome do Aluno: _____

Ano de escolaridade: _____º Turma: _____ N.º _____

Data de nascimento: ____/____/____ Data de realização do questionário: 201__/__/__

ATENÇÃO: Para cada afirmação/pergunta, apenas existe uma opção de resposta verdadeira. Faz uma circunferência (O) em torno dessa mesma resposta.

Número das questões	Questões	Penalizações parciais (20 pontos por cada resposta errada)
1	As crianças com menos de 12 anos de idade transportadas em automóveis equipados com cintos de segurança, desde que tenham altura inferior a 135 cm, devem ser seguras por sistema de retenção homologado e adaptado ao seu tamanho e peso. A – Verdadeiro B – Falso	
2	O peão da imagem está a caminhar no sítio adequado? A - Sim, pois encontra-se numa pista obrigatória para peões e velocípedes B - Não, porque está numa pista destinada apenas a ciclistas	
3	Os bebés, transportados em automóveis, estão mais seguros se forem ao colo de outra pessoa. A – Verdadeiro B – Falso	
4	Quem anda de bicicleta, até aos dez anos pode circular nos passeios. A – Verdadeiro B – Falso	
5	Dois ciclistas podem circular a par. A – Verdadeiro B- Falso	
Total de Penalizações		



Projeto de Enriquecimento e Complemento Curricular
Plano Regional de Educação Rodoviária (PRER) 2017/2018
Projeto E - **Taça Escolar de Educação Rodoviária – Fase Concelhia**

Categoria A – 1º Ciclo do Ensino Básico - 11ª Edição



QUESTIONÁRIO (escrito)

0319

A PREENCHER PELO PARTICIPANTE (EM MAIÚSCULAS)

Estabelecimento de Ensino: _____

Nome do Aluno: _____

Ano de escolaridade: _____º Turma: _____ N.º _____

Data de nascimento: ____/____/____ Data de realização do questionário: 201__/__/__

ATENÇÃO: Para cada afirmação/pergunta, apenas existe uma opção de resposta verdadeira. Faz uma circunferência (O) em torno dessa mesma resposta.

Número das questões	Questões	Penalizações parciais (20 pontos por cada resposta errada)
1	Os bebés, transportados em automóveis, estão mais seguros se forem ao colo de outra pessoa. A – Verdadeiro B – Falso	
2	Os peões devem transitar pela direita dos locais que lhes são destinados, ainda que transitem nas vias públicas em que esteja proibido o trânsito de veículos. A – Verdadeiro B – Falso	
3	Se circulareres de bicicleta à noite, para veres e seres visto pelos outros utentes deves ligar a luz da frente que é vermelha e, a de trás que é branca. A – Verdadeiro B – Falso	
4	Quando andas a pé deves: A – caminhar pela estrada, fazendo-o pelo lado direito, de costas para o trânsito. B – Se possível, caminhar sempre nos passeios destinados para os peões.	
5	Dois ciclistas não podem circular a par. A – Verdadeiro B- Falso	
Total de Penalizações		



Projeto de Enriquecimento e Complemento do Curricular
Plano Regional de Educação Rodoviária (PRER) 2017/2018
 Projeto E - Taça Escolar de Educação Rodoviária – Fase Concelhia

Categoria A – 1º Ciclo do Ensino Básico - 11ª Edição



QUESTIONÁRIO (escrito)

0342

A PREENCHER PELO PARTICIPANTE (EM MAIÚSCULAS)

Estabelecimento de Ensino: _____

Nome do Aluno: _____

Ano de escolaridade: _____º








Turma: _____

N.º _____

Data de nascimento: ____/____/____

Data de realização do questionário: 201__/__/__

ATENÇÃO: Para cada afirmação/pergunta, apenas existe uma opção de resposta verdadeira. Faz uma circunferência (O) em torno dessa mesma resposta.

Número das questões	Questões	Penalizações parciais (20 pontos por cada resposta errada)
1	No fim de uma viagem, os passageiros de automóveis devem libertar-se imediatamente do cinto de segurança, mesmo quando os veículos ainda estão em andamento. A – Verdadeiro B – Falso	
2	O peão da imagem está a caminhar no sítio adequado? A - Sim, pois encontra-se numa pista obrigatória para peões e velocípedes B - Não, porque está numa pista destinada apenas a ciclistas	
3	Se circulars de bicicleta à noite, para veres e seres visto pelos outros utentes deves ligar a luz da frente que é vermelha e, a de trás que é branca. A – Verdadeiro B – Falso	
4	Todos os sinais que se seguem são de cedência de passagem?      	
5	Dois ciclistas podem circular a par. A – Verdadeiro B- Falso	
Total de Penalizações		



Projeto de Enriquecimento e Complemento Curricular

Plano Regional de Educação Rodoviária (PRER) 2017/2018

Projeto E - Taça Escolar de Educação Rodoviária – Fase Concelhia

Categoria A – 1º Ciclo do Ensino Básico - 11ª Edição



QUESTIONÁRIO (escrito)

0819

A PREENCHER PELO PARTICIPANTE (EM MAIÚSCULAS)

Estabelecimento de Ensino: _____

Nome do Aluno: _____

Ano de escolaridade: _____º

Turma: _____

N.º _____

Data de nascimento: ____/____/____

Data de realização do questionário: 201_/_/____

ATENÇÃO: Para cada afirmação/pergunta, apenas existe uma opção de resposta verdadeira. Faz uma circunferência (O) em torno dessa mesma resposta.

Número das questões	Questões	Penalizações parciais (20 pontos por cada resposta errada)
1	Os bebés, transportados em automóveis, estão mais seguros se forem ao colo de outra pessoa. A – Verdadeiro B – Falso	
2	Muitas crianças usam transporte coletivo de passageiros, público ou escolar, para diariamente se deslocarem para a escola. Em que situação consideras que correm mais riscos? A - O André, aguarda que o transporte arranque, antes de atravessar a estrada e só depois de olhar à esquerda, à direita e novamente à esquerda, sem correr e apenas quando não há veículos a circular é que atravessa a rua. B - O Pedro, atravessa a estrada ainda com o autocarro na paragem e muitas vezes detém-se no eixo da via para deixar passar veículos em ultrapassagem ou que circulam em sentido contrário.	
3	Se circulars de bicicleta à noite, para veres e seres visto pelos outros utentes deves ligar a luz da frente que é vermelha e, a de trás que é branca. A – Verdadeiro B – Falso	
4	Em Portugal, as crianças até 1,35m e menos de 12 anos de idade têm de sentar-se num sistema de retenção adequado ao seu tamanho e peso. A – Verdadeiro B - Falso	
5	Dois ciclistas não podem circular a par. A – Verdadeiro B- Falso	
Total de Penalizações		



Projeto de Enriquecimento e Complemento Curricular
Plano Regional de Educação Rodoviária (PRER) 2017/2018
 Projeto E - **Taça Escolar de Educação Rodoviária – Fase Concelhia**



Categoria A – 1º Ciclo do Ensino Básico - 11ª Edição

QUESTIONÁRIO (escrito)

1007

A PREENCHER PELO PARTICIPANTE (EM MAIÚSCULAS)

Estabelecimento de Ensino: _____

Nome do Aluno: _____

Ano de escolaridade: _____º Turma: _____ N.º _____

Data de nascimento: ____/____/____ Data de realização do questionário: 201__/__/__

ATENÇÃO: Para cada afirmação/pergunta, apenas existe uma opção de resposta verdadeira. Faz uma circunferência (O) em torno dessa mesma resposta.

Número das questões	Questões	Penalizações parciais (20 pontos por cada resposta errada)
1	É proibido o transporte de pessoas em número que exceda a lotação do veículo ou de modo a comprometer a sua segurança ou a segurança da condução. A – Verdadeiro B – Falso	
2	Os peões devem transitar pela direita dos locais que lhes são destinados, ainda que transitem nas vias públicas em que esteja proibido o trânsito de veículos. A – Verdadeiro B – Falso	
3	Sempre que circulas de bicicleta e viras de direção à direita, se houver peões a atravessar a rua, deves parar, mesmo que não existam passadeiras para peões. A – Verdadeiro B – Falso	
4	Em Portugal, as crianças até 1,35m e menos de 12 anos de idade têm de sentar-se num sistema de retenção adequado ao seu tamanho e peso. A – Verdadeiro B – Falso	
5	Dois ciclistas podem circular a par. A – Verdadeiro B - Falso	
Total de Penalizações		



Projeto de Enriquecimento e Complemento Curricular
Plano Regional de Educação Rodoviária (PRER) 2017/2018
 Projeto E - Taça Escolar de Educação Rodoviária – Fase Concelhia

Categoria A – 1º Ciclo do Ensino Básico - 11ª Edição



QUESTIONÁRIO (escrito)

1099

A PREENCHER PELO PARTICIPANTE (EM MAIÚSCULAS)

Estabelecimento de Ensino: _____

Nome do Aluno: _____

Ano de escolaridade: _____º



Turma: _____

N.º _____

Data de nascimento: ____/____/____

Data de realização do questionário: 201_/_/_

ATENÇÃO: Para cada afirmação/pergunta, apenas existe uma opção de resposta verdadeira. Faz uma circunferência (O) em torno dessa mesma resposta.

Número das questões	Questões	Penalizações parciais (20 pontos por cada resposta errada)
1	<p>É proibido entrar, sair ou abrir as portas dos automóveis sem que estes estejam completamente imobilizados.</p> <p>A – Verdadeiro B – Falso</p>	
2	<p>O Miguel pretende brincar no jardim. Achas que se encontra no local mais seguro para atravessar?</p> <p>A - Não, porque não consegue ver os veículos que se aproximam.</p> <p>B - Sim, porque assim está a uma menor distância do jardim.</p> 	
3	<p>Quando andas de bicicleta e queres mudar de direção deves:</p> <p>A – Verificar se atrás não há veículos perto.</p> <p>B – Fazer sinal com o braço.</p> <p>C – Abrandar, parar se houver veículos a aproximar-se, e só avançar, de acordo com a regra geral de cedência de passagem ou sinalização existente.</p> <p>D – Todas estão corretas.</p>	
4	<p>Que significa o sinal que se segue?</p> <p>A – Pista destinada à circulação de ciclistas</p> <p>B – Proibida a circulação de ciclistas</p> <p>C – Obrigatório levar a bicicleta à mão</p> 	
5	<p>Se tiveres 120 cm já não necessitas de usar “cadeirinha”-</p> <p>A- Verdadeiro B – Falso</p>	
Total de Penalizações		



Projeto de Enriquecimento e Complemento Curricular
Plano Regional de Educação Rodoviária (PRER) 2017/2018
Projeto E - Taça Escolar de Educação Rodoviária – Fase Concelhia



Categoria A – 1º Ciclo do Ensino Básico - 11ª Edição

QUESTIONÁRIO (escrito)

1272

A PREENCHER PELO PARTICIPANTE (EM MAIÚSCULAS)

Estabelecimento de Ensino: _____

Nome do Aluno: _____

Ano de escolaridade: _____º


Turma: _____

N.º _____

Data de nascimento: ____/____/____

Data de realização do questionário: 201__/__/__

ATENÇÃO: Para cada afirmação/pergunta, apenas existe uma opção de resposta verdadeira. Faz uma circunferência (O) em torno dessa mesma resposta.

Número das questões	Questões	Penalizações parciais (20 pontos por cada resposta errada)
1	Os bebés, transportados em automóveis, estão mais seguros se forem ao colo de outra pessoa. A – Verdadeiro B – Falso	
2	Parece-te que o João e o Miguel estão a brincar num local seguro? A - Não. Estão muito perto da faixa de rodagem B - Sim. Estão a brincar no passeio onde não existe trânsito	
3	Sempre que circulas de bicicleta e viras de direção à direita, se houver peões a atravessar a rua, deves parar, mesmo que não existam passadeiras para peões. A – Verdadeiro B – Falso	
4	Para entrares e saíres do automóvel deves: A – Mesmo com o automóvel em marcha lenta posso sair ou entrar. B – Entrar e sair sempre pelo lado do passeio. C – Colocar-me à retaguarda de um veículo que esteja a fazer uma manobra. D – Nenhuma está correta.	
5	É proibido entrar, sair ou abrir as portas dos automóveis sem que estes estejam completamente imobilizados. A – Verdadeiro B – Falso	
Total de Penalizações		



Projeto de Enriquecimento e Complemento Curricular
Plano Regional de Educação Rodoviária (PRER) 2017/2018
 Projeto E - **Taça Escolar de Educação Rodoviária – Fase Concelhia**

Categoria A – 1º Ciclo do Ensino Básico - 11ª Edição



QUESTIONÁRIO (escrito)

1610

A PREENCHER PELO PARTICIPANTE (EM MAIÚSCULAS)


Estabelecimento de Ensino: _____

Nome do Aluno: _____

Ano de escolaridade: _____º Turma: _____ N.º _____

Data de nascimento: ____/____/____ Data de realização do questionário: 201__/__/__

ATENÇÃO: Para cada afirmação/pergunta, apenas existe uma opção de resposta verdadeira. Faz uma circunferência (O) em torno dessa mesma resposta.

Número das questões	Questões	Penalizações parciais (20 pontos por cada resposta errada)
1	Os bebés, transportados em automóveis, estão mais seguros se forem ao colo de outra pessoa. A – Verdadeiro B – Falso	
2	O Miguel pretende brincar no jardim. Achas que se encontra no local mais seguro para atravessar? A - Não, porque não consegue ver os veículos que se aproximam. B - Sim, porque assim está a uma menor distância do jardim.	
3	É proibido entrar, sair ou abrir as portas dos automóveis sem que estes estejam completamente imobilizados. A – Verdadeiro B – Falso	
4	Quando andas a pé e queres atravessar a rua deves: A – Havendo passadeiras atravessar nelas. B – Não vindo nenhum veículo, atravesso a direito a correr.	
5	Dois ciclistas podem circular a par. A – Verdadeiro B - Falso	
Total de Penalizações		



Projeto de Enriquecimento e Complemento Curricular
Plano Regional de Educação Rodoviária (PRER) 2017/2018
 Projeto E - Taça Escolar de Educação Rodoviária – Fase Concelhia



Categoria A – 1º Ciclo do Ensino Básico - 11ª Edição

QUESTIONÁRIO (escrito)

1710

A PREENCHER PELO PARTICIPANTE (EM MAIÚSCULAS)







Estabelecimento de Ensino: _____

Nome do Aluno: _____

Ano de escolaridade: _____º Turma: _____ N.º _____

Data de nascimento: ____/____/____ Data de realização do questionário: 201__/__/__

ATENÇÃO: Para cada afirmação/pergunta, apenas existe uma opção de resposta verdadeira. Faz uma circunferência (O) em torno dessa mesma resposta.

Número das questões	Questões	Penalizações parciais (20 pontos por cada resposta errada)
1	É proibido entrar, sair ou abrir as portas dos automóveis sem que estes estejam completamente imobilizados. A – Verdadeiro B – Falso	
2	Os peões só podem atravessar a faixa de rodagem nas passagens especialmente sinalizadas para esse efeito ou, quando nenhuma exista a uma distância inferior a 50 m, perpendicularmente ao eixo da faixa de rodagem. A – Verdadeiro B – Falso	
3	Quando andas de bicicleta, a distância que deve separar-te do veículo da frente, deve ser suficiente para parares, se ele fizer uma travagem ou manobra brusca. A – Verdadeiro B – Falso	
4	9 – Todos os sinais que se seguem são de cedência de passagem?       A – Verdadeiro B – Falso	
5	Dois ciclistas não podem circular a par. A – Verdadeiro B - Falso	
Total de Penalizações		



Projeto de Enriquecimento e Complemento Curricular
Plano Regional de Educação Rodoviária (PRER) 2017/2018
 Projeto E - **Taça Escolar de Educação Rodoviária – Fase Concelhia**



Categoria A – 1º Ciclo do Ensino Básico - 11ª Edição

QUESTIONÁRIO (escrito)

1740

A PREENCHER PELO PARTICIPANTE (EM MAIÚSCULAS)

Estabelecimento de Ensino: _____

Nome do Aluno: _____

Ano de escolaridade: _____º


Turma: _____

N.º _____

Data de nascimento: ____/____/____

Data de realização do questionário: 201_/_/_

ATENÇÃO: Para cada afirmação/pergunta, apenas existe uma opção de resposta verdadeira. Faz uma circunferência (O) em torno dessa mesma resposta.

Número das questões	Questões	Penalizações parciais (20 pontos por cada resposta errada)
1	É aconselhado o uso do cinto de segurança mas por lei não é obrigatório. A – Verdadeiro B – Falso	
2	O Manuel está a chamar o João. Para ir ter com ele, o que é que o João deve fazer? A - Atravessar a partir do local onde se encontra. B - Andar um pouco mais e atravessar na passagem para peões.	
3	Todos os condutores que saiam de uma zona de abastecimento de combustível, de um prédio, de um parque de estacionamento ou de um caminho particular devem ceder a passagem aos veículos que estão a circular na via em que vão entrar. Portanto, os ciclistas, quando encontrarem veículos a sair destes locais, sabem que são os primeiros a avançar. A – Verdadeiro B – Falso	
4	Na sinalização luminosa, os sinais para os condutores são: A – Tricolores: Vermelho, amarelo e verde B – Bicolores: Vermelho e verde C – Tricolores: Vermelho, laranja e verde D – Bicolores: Vermelho e amarelo	
5	Dois ciclistas podem circular a par. A – Verdadeiro B - Falso	
Total de Penalizações		



Projeto de Enriquecimento e Complemento Curricular

Plano Regional de Educação Rodoviária (PRER) 2017/2018

Projeto E - Taça Escolar de Educação Rodoviária – Fase Concelhia

Categoria A – 1º Ciclo do Ensino Básico - 11ª Edição



QUESTIONÁRIO (escrito)

1768

A PREENCHER PELO PARTICIPANTE (EM MAIÚSCULAS)

Estabelecimento de Ensino: _____

Nome do Aluno: _____

Ano de escolaridade: _____º


Turma: _____

N.º _____

Data de nascimento: ____/____/____

Data de realização do questionário: 201__/__/__

ATENÇÃO: Para cada afirmação/pergunta, apenas existe uma opção de resposta verdadeira. Faz uma circunferência (O) em torno dessa mesma resposta.

Número das questões	Questões	Penalizações parciais (20 pontos por cada resposta errada)
1	No fim de uma viagem, os passageiros de automóveis devem libertar-se imediatamente do cinto de segurança, mesmo quando os veículos ainda estão em andamento. A – Verdadeiro B – Falso	
2	É aconselhado o uso do cinto de segurança mas por lei não é obrigatório. A – Verdadeiro B – Falso	
3	O Manuel está a chamar o João. Para ir ter com ele, o que é que o João deve fazer? A - Atravessar a partir do local onde se encontra. B - Andar um pouco mais e atravessar na passagem para peões.	
4	Para entrares e saíres do automóvel debes: A – Mesmo com o automóvel em marcha lenta posso sair ou entrar B – Entrar e sair sempre pelo lado do passeio C – Colocar-me à retaguarda de um veículo que esteja a fazer uma manobra D – Nenhuma está correta	
5	Se tiveres 120 cm já não necessitas de usar “cadeirinha”- A- Verdadeiro B - Falso	
Total de Penalizações		



Projeto de Enriquecimento e Complemento Curricular
Plano Regional de Educação Rodoviária (PRER) 2017/2018
 Projeto E - Taça Escolar de Educação Rodoviária – Fase Concelhia

Categoria A – 1º Ciclo do Ensino Básico - 11ª Edição



QUESTIONÁRIO (escrito)

2598

A PREENCHER PELO PARTICIPANTE (EM MAIÚSCULAS)


Estabelecimento de Ensino: _____

Nome do Aluno: _____

Ano de escolaridade: _____º Turma: _____ N.º _____

Data de nascimento: ____/____/____ Data de realização do questionário: 201__/__/__

ATENÇÃO: Para cada afirmação/pergunta, apenas existe uma opção de resposta verdadeira. Faz uma circunferência (O) em torno dessa mesma resposta.

Número das questões	Questões	Penalizações parciais (20 pontos por cada resposta errada)
1	No fim de uma viagem, os passageiros de automóveis devem libertar-se imediatamente do cinto de segurança, mesmo quando os veículos ainda estão em andamento. A – Verdadeiro B – Falso	
2	Dois ciclistas podem circular a par. A – Verdadeiro B - Falso	
3	Se circulars de bicicleta à noite, para veres e seres visto pelos outros utentes deves ligar a luz da frente que é vermelha e, a de trás que é branca. A – Verdadeiro B – Falso	
4	Para entrares e saíres do automóvel deves: A – Mesmo com o automóvel em marcha lenta posso sair ou entrar. B – Entrar e sair sempre pelo lado do passeio. C – Colocar-me à retaguarda de um veículo que esteja a fazer uma manobra. D – Nenhuma está correta.	
5	O Miguel pretende brincar no jardim. Achas que se encontra no local mais seguro para atravessar? A - Não, porque não consegue ver os veículos que se aproximam. B - Sim, porque assim está a uma menor distância do jardim.	
Total de Penalizações		



Projeto de Enriquecimento e Complemento Curricular
Plano Regional de Educação Rodoviária (PRER) 2017/2018
Projeto E - Taça Escolar de Educação Rodoviária – Fase Concelhia

Categoria A – 1º Ciclo do Ensino Básico - 11ª Edição



QUESTIONÁRIO (escrito)

2612

A PREENCHER PELO PARTICIPANTE (EM MAIÚSCULAS)

Estabelecimento de Ensino: _____

Nome do Aluno: _____

Ano de escolaridade: _____º



Turma: _____

N.º _____

Data de nascimento: ____/____/____

Data de realização do questionário: 201__/__/__

ATENÇÃO: Para cada afirmação/pergunta, apenas existe uma opção de resposta verdadeira. Faz uma circunferência (O) em torno dessa mesma resposta.

Número das questões	Questões	Penalizações parciais (20 pontos por cada resposta errada)
1	Que significa a sinalização que o ciclista está a realizar? A) Vai virar à direita; B) Vai virar à esquerda. 	
2	O que significa o seguinte sinal de trânsito? A) Existe uma passagem para peões. B) Existe uma escola nas proximidades. C) Proibido a passagem de peões. 	
3	Onde devem circular os velocípedes? A) Faixa de rodagem. B) Nos passeios. C) Unicamente nas bermas.	
4	Para conduzir um veículo a motor na via pública, o condutor tem de estar devidamente habilitado para tal. A) Certo. B) Errado	
5	Dois ciclistas não podem circular a par. A – Verdadeiro B - Falso	
Total de Penalizações		



Projeto de Enriquecimento e Complemento Curricular
Plano Regional de Educação Rodoviária (PRER) 2017/2018
 Projeto E - **Taça Escolar de Educação Rodoviária – Fase Concelhia**

Categoria A – 1º Ciclo do Ensino Básico - 11ª Edição



QUESTIONÁRIO (escrito)

2636

A PREENCHER PELO PARTICIPANTE (EM MAIÚSCULAS)

Estabelecimento de Ensino: _____

Nome do Aluno: _____

Ano de escolaridade: _____º



Turma: _____

N.º _____

Data de nascimento: ____/____/____

de realização do questionário: 201__/__/__

ATENÇÃO: Para cada afirmação/pergunta, apenas existe uma opção de resposta verdadeira. Faz uma circunferência (O) em torno dessa mesma resposta.

Número das questões	Questões	Penalizações parciais (20 pontos por cada resposta errada)
1	A que grupos pertencem os sinais de trânsito apresentados? A) Obrigação e perigo; B) Cedência e proibição; D) Informação e obrigação.  	
2	A pressa é inimiga da segurança. Qual das seguintes frases é verdadeira? A) Se estiveres atrasado para ir para a escola, corre e não te preocupes em atravessar nas passadeiras; B) A sinalização vertical para os peões não é importante, por isso não percas tempo em olhá-la. C) Mesmo que estejas com pressa para atravessar a rua, procura sempre uma passadeira.	
3	Dois ciclistas não podem circular a par. A – Verdadeiro B - Falso	
4	Um peão deve permanecer o maior tempo possível na faixa de rodagem. Deve atravessar em diagonal e a correr de modo a incomodar os outros utentes. A - Verdadeiro B - Falso	
5	Se tiveres 120 cm já não necessitas de usar “cadeirinha”. A- Verdadeiro B - Falso	
Total de Penalizações		



Projeto de Enriquecimento e Complemento Curricular

Plano Regional de Educação Rodoviária (PRER) 2017/2018

Projeto E - Taça Escolar de Educação Rodoviária – Fase Concelhia

Categoria A – 1º Ciclo do Ensino Básico - 11ª Edição



QUESTIONÁRIO (escrito)

2941

A PREENCHER PELO PARTICIPANTE (EM MAIÚSCULAS)

Estabelecimento de Ensino: _____

Nome do Aluno: _____

Ano de escolaridade: _____º



Turma: _____

N.º _____

Data de nascimento: ____/____/____

Data de realização do questionário: 201__/__/__

ATENÇÃO: Para cada afirmação/pergunta, apenas existe uma opção de resposta verdadeira. Faz uma circunferência (O) em torno dessa mesma resposta.

Número das questões	Questões	Penalizações parciais (20 pontos por cada resposta errada)
1	Existem quatro categorias de sinais: os de informação; os de perigo; os de obrigação; e os de proibição. A - Verdadeiro B - Falso	
2	A ciclista A que vai virar à direita, deve: A) Parar e avançar depois dos outros condutores; B) Avançar antes do automóvel.	
3	Dois ciclistas não podem circular a par. A – Verdadeiro B - Falso	
4	Quando te deslocas a pé num túnel ou à noite, vestes roupas de cor clara para te tornares mais visível. A - Verdadeiro B - Falso	
5	A que grupos pertencem os sinais de trânsito apresentados? A) Obrigação e perigo; B) Cedência e proibição; D) Informação e obrigação.	
Total de Penalizações		



Projeto de Enriquecimento e Complemento Curricular

Plano Regional de Educação Rodoviária (PRER) 2017/2018

Projeto E - Taça Escolar de Educação Rodoviária – Fase Concelhia



Categoria A – 1º Ciclo do Ensino Básico - 11ª Edição

QUESTIONÁRIO (escrito)

3233

A PREENCHER PELO PARTICIPANTE (EM MAIÚSCULAS)

Estabelecimento de Ensino: _____

Nome do Aluno: _____

Ano de escolaridade: _____º




Turma: _____

N.º _____

Data de nascimento: ____/____/____

Data de realização do questionário: 201__/__/__

ATENÇÃO: Para cada afirmação/pergunta, apenas existe uma opção de resposta verdadeira. Faz uma circunferência (O) em torno dessa mesma resposta.

Número das questões	Questões	Penalizações parciais (20 pontos por cada resposta errada)
1	O que significa o sinal apresentado? A) Obrigatório ceder a passagem. B) Obrigatório a circulação de peões. C) Proibida a passagem a peões.	
2	Quando um condutor de automóvel ultrapassa um autocarro parado. A) Não existe nenhum perigo porque os peões vêm bem os condutores. B) Tem de estar ainda mais atento, porque não vê se há passageiros a atravessar a rua pela sua frente. C) Desde que ultrapasse pelo lado esquerdo não põe ninguém em perigo.	
3	A que grupos pertencem os sinais de trânsito apresentados? A) Obrigação e perigo; B) Cedência e proibição; D) Informação e obrigação.	 
4	Quando o piso está molhado ou escorregadio, a distância que um veículo percorre até parar é maior do que se o piso estiver seco. A - Verdadeiro B - Falso	
5	Dois ciclistas não podem circular a par. A – Verdadeiro B - Falso	
Total de Penalizações		



Projeto de Enriquecimento e Complemento Curricular
Plano Regional de Educação Rodoviária (PRER) 2017/2018
Projeto E - Taça Escolar de Educação Rodoviária – Fase Concelhia

Categoria A – 1º Ciclo do Ensino Básico - 11ª Edição



QUESTIONÁRIO (escrito)

3437

A PREENCHER PELO PARTICIPANTE (EM MAIÚSCULAS)





Estabelecimento de Ensino: _____

Nome do Aluno: _____

Ano de escolaridade: _____º Turma: _____ N.º _____

Data de nascimento: ____/____/____ Data de realização do questionário: 201_/_/____

ATENÇÃO: Para cada afirmação/pergunta, apenas existe uma opção de resposta verdadeira. Faz uma circunferência (O) em torno dessa mesma resposta.

Número das questões	Questões	Penalizações parciais (20 pontos por cada resposta errada)
1	O Tiago, que tem 8 anos, vai todos os dias de bicicleta para a escola. Para não se expor ao perigo dos veículos a motor, fá-lo sobre os passeios. Como classificas a opção do Tiago? A) Correta B) Incorreta	
2	Qual dos seguintes sinais indica sentido proibido? A)  B)  C) 	
3	Os peões devem transitar pela direita nos locais que lhes são destinados, ainda que transitem nas vias públicas em que esteja proibido o trânsito de veículos. A) Verdadeiro B) Falso	
4	A ciclista A deve: A) Passar antes dos outros ciclistas. B) Passar depois dos outros ciclistas. C) Passar depois da ciclista C e antes do ciclista B. 	
5	Dois ciclistas podem circular a par. A – Verdadeiro B - Falso	
Total de Penalizações		



Projeto de Enriquecimento e Complemento Curricular
Plano Regional de Educação Rodoviária (PRER) 2017/2018
 Projeto E - **Taça Escolar de Educação Rodoviária – Fase Concelhia**



Categoria A – 1º Ciclo do Ensino Básico - 11ª Edição

QUESTIONÁRIO (escrito)

3743

A PREENCHER PELO PARTICIPANTE (EM MAIÚSCULAS)




Estabelecimento de Ensino: _____

Nome do Aluno: _____

Ano de escolaridade: _____º Turma: _____ N.º _____

Data de nascimento: ____/____/____ Data de realização do questionário: 201__/__/__

ATENÇÃO: Para cada afirmação/pergunta, apenas existe uma opção de resposta verdadeira. Faz uma circunferência (O) em torno dessa mesma resposta.

Número das questões	Questões	Penalizações parciais (20 pontos por cada resposta errada)
1	O Tiago, que tem 8 anos, vai todos os dias de bicicleta para a escola. Para não se expor ao perigo dos veículos a motor, fá-lo sobre os passeios. Como classificas a opção do Tiago? A) Correta B) Incorreta	
2	Quando te deslocas a pé num túnel ou à noite, deves vestir roupas de cor clara para te tornares mais visível. A) Verdadeiro B) Falso	
3	O que significa o sinal apresentado? A) Obrigatório ceder a passagem. B) Obrigatório a circulação de peões. C) Proibida a passagem a peões.	
4	A que grupos pertencem os sinais de trânsito apresentados? A) Obrigação e perigo; B) Cedência e proibição; D) Informação e obrigação.	 
5	Quando o piso está molhado ou escorregadio, a distância que um veículo percorre até parar é maior do que se o piso estiver seco. A) Verdadeiro B) Falso	
Total de Penalizações		



Projeto de Enriquecimento e Complemento Curricular
Plano Regional de Educação Rodoviária (PRER) 2017/2018
 Projeto E - **Taça Escolar de Educação Rodoviária – Fase Concelhia**

Categoria A – 1º Ciclo do Ensino Básico - 11ª Edição



QUESTIONÁRIO (escrito)

4059

A PREENCHER PELO PARTICIPANTE (EM MAIÚSCULAS)

Estabelecimento de Ensino: _____

Nome do Aluno: _____

Ano de escolaridade: _____º



Turma: _____

N.º _____

Data de nascimento: ____/____/____

Data de realização do questionário: 201__/__/__

ATENÇÃO: Para cada afirmação/pergunta, apenas existe uma opção de resposta verdadeira. Faz uma circunferência (O) em torno dessa mesma resposta.

Número das questões	Questões	Penalizações parciais (20 pontos por cada resposta errada)
1	Entrar ou sair dos veículos sem que estes estejam completamente imobilizados é um comportamento aconselhado, já que se torna mais breve, perturbando menos a circulação rodoviária. A) Verdadeiro B) Falso	
2	Quando te deslocas a pé num túnel ou à noite, deves vestir roupas de cor clara para te tornares mais visível. A) Verdadeiro B) Falso	
3	Como é que esta menina se deve comportar? A) Avançar, se não houver veículos a aproximar-se. B) Parar sempre, mesmo que não se aproximem veículos.	
4	Para conduzir um veículo a motor na via pública basta saber fazê-lo, não sendo necessário estar legalmente habilitado para o efeito. A) Verdadeiro B) Falso	
5	A que grupos pertencem os sinais de trânsito apresentados? A) Obrigação e perigo; B) Cedência e proibição; D) Informação e obrigação.	
Total de Penalizações		

Projeto de Enriquecimento e Complemento Curricular
Plano Regional de Educação Rodoviária (PRER) 2017/2018
Projeto E - Taça Escolar de Educação Rodoviária – Fase Concelhia

Categoria A – 1º Ciclo do Ensino Básico - 11ª Edição



QUESTIONÁRIO (escrito)

4391

A PREENCHER PELO PARTICIPANTE (EM MAIÚSCULAS)

Estabelecimento de Ensino: _____

Nome do Aluno: _____

Ano de escolaridade: _____º



Turma: _____

N.º _____

Data de nascimento: ____/____/____

Data de realização do questionário: 201_/_/_

ATENÇÃO: Para cada afirmação/pergunta, apenas existe uma opção de resposta verdadeira. Faz uma circunferência (O) em torno dessa mesma resposta.

Número das questões	Questões	Penalizações parciais (20 pontos por cada resposta errada)
1	Dois ciclistas podem circular a par. A – Verdadeiro B - Falso	
2	Existem quatro categorias de sinais: os de informação; os de perigo; os de detenção; e os de proibição. A) Verdadeiro B) Falso	
3	Onde devem circular os velocípedes? A) Faixa de rodagem B) Nos passeios C) Unicamente nas bermas	
4	A ciclista A deve: A) Passar antes dos outros ciclistas. B) Passar depois dos outros ciclistas. C) Passar depois da ciclista C e antes do ciclista B.	
5	A ciclista A que vai virar à direita, deve: A) Parar e avançar depois dos outros condutores; B) Avançar antes do automóvel.	
Total de Penalizações		



Projeto de Enriquecimento e Complemento Curricular
Plano Regional de Educação Rodoviária (PRER) 2017/2018
Projeto E - Taça Escolar de Educação Rodoviária – Fase Concelhia

Categoria A – 1º Ciclo do Ensino Básico - 11ª Edição



QUESTIONÁRIO (escrito)

4484

A PREENCHER PELO PARTICIPANTE (EM MAIÚSCULAS)

Estabelecimento de Ensino: _____

Nome do Aluno: _____

Ano de escolaridade: _____º




Turma: _____

N.º _____

Data de nascimento: ____/____/____

Data de realização do questionário: 201_/_/_

ATENÇÃO: Para cada afirmação/pergunta, apenas existe uma opção de resposta verdadeira. Faz uma circunferência (O) em torno dessa mesma resposta.

Número das questões	Questões	Penalizações parciais (20 pontos por cada resposta errada)
1	Os bebés, transportados em automóveis, estão mais seguros se forem ao colo de outra pessoa. A) Verdadeiro B) Falso	
2	O que significa o sinal apresentado? A) Obrigatório ceder a passagem. B) Obrigatório a circulação de peões. C) Proibida a passagem a peões.	
3	O Tiago, que tem 8 anos, vai todos os dias de bicicleta para a escola. Para não se expor ao perigo dos veículos a motor, fá-lo sobre os passeios. Como classificas a opção do Tiago? A) Correta B) Incorreta	
4	Um peão deve permanecer o maior tempo possível na faixa de rodagem. Não deve atravessar em diagonal, nem a correr de modo a incomodar os outros utentes. A) Verdadeiro B) Falso	
5	A que grupos pertencem os sinais de trânsito apresentados? A) Obrigação e perigo; B) Cedência e proibição; D) Informação e obrigação.	 
Total de Penalizações		



Projeto de Enriquecimento e Complemento Curricular
Plano Regional de Educação Rodoviária (PRER) 2017/2018
Projeto E - Taça Escolar de Educação Rodoviária – Fase Concelhia

Categoria A – 1º Ciclo do Ensino Básico - 11ª Edição



QUESTIONÁRIO (escrito)

4695

A PREENCHER PELO PARTICIPANTE (EM MAIÚSCULAS)

Estabelecimento de Ensino: _____

Nome do Aluno: _____

Ano de escolaridade: _____º


Turma: _____

N.º _____

Data de nascimento: ____/____/____

Data de realização do questionário: 201__/__/__

ATENÇÃO: Para cada afirmação/pergunta, apenas existe uma opção de resposta verdadeira. Faz uma circunferência (O) em torno dessa mesma resposta.

Número das questões	Questões	Penalizações parciais (20 pontos por cada resposta errada)
1	Quando o piso está molhado ou escorregadio, a distância que um veículo percorre até parar é maior do que se o piso estiver seco. A) Verdadeiro B) Falso	
2	Os bebés, transportados em automóveis, estão mais seguros se forem ao colo de outra pessoa. A) Verdadeiro B) Falso	
3	A ciclista A deve: A) Parar e avançar depois dos outros condutores; B) Avançar antes do automóvel.	
4	A pressa é inimiga da segurança. Qual das seguintes frases é verdadeira? A) Se estiveres atrasado para ir para a escola, corre e não te preocupes em atravessar nas passadeiras; B) A sinalização vertical para os peões não é importante, por isso não percas tempo em olhá-la. C) Mesmo que estejas com pressa para atravessar a rua, procura sempre uma passadeira.	
5	Dois ciclistas podem circular a par. A – Verdadeiro B - Falso	
Total de Penalizações		



Projeto de Enriquecimento e Complemento Curricular

Plano Regional de Educação Rodoviária (PRER) 2017/2018

Projeto E - Taça Escolar de Educação Rodoviária – Fase Concelhia

Categoria A – 1º Ciclo do Ensino Básico - 11ª Edição



QUESTIONÁRIO (escrito)

4895

A PREENCHER PELO PARTICIPANTE (EM MAIÚSCULAS)

Estabelecimento de Ensino: _____

Nome do Aluno: _____

Ano de escolaridade: _____º

Turma: _____

N.º _____

Data de nascimento: ____/____/____

Data de realização do questionário: 201__/__/__

ATENÇÃO: Para cada afirmação/pergunta, apenas existe uma opção de resposta verdadeira. Faz uma circunferência (O) em torno dessa mesma resposta.

Número das questões	Questões	Penalizações parciais (20 pontos por cada resposta errada)
1	É aconselhado o uso do cinto de segurança mas por lei não é obrigatório. A – Verdadeiro B – Falso	
2	A que grupos pertencem os sinais de trânsito apresentados? A) Perigo e informação; B) Obrigação e Perigo; C) Cedência e proibição; D) Informação e obrigação.	
3	Para conduzir um veículo a motor na via pública basta saber fazê-lo, não sendo necessário estar legalmente habilitado para o efeito. A) Verdadeiro B) Falso	
4	Entrar ou sair dos veículos sem que estes estejam completamente imobilizados é um comportamento aconselhado, já que se torna mais breve, perturbando menos a circulação rodoviária. A) Verdadeiro B) Falso	
5	O que significa o sinal apresentado? A) Obrigatório ceder a passagem. B) Obrigatório a circulação de peões. C) Proibida a passagem a peões.	
Total de Penalizações		



Projeto de Enriquecimento e Complemento Curricular
Plano Regional de Educação Rodoviária (PRER) 2017/2018
 Projeto E - Taça Escolar de Educação Rodoviária – Fase Concelhia

Categoria A – 1º Ciclo do Ensino Básico - 11ª Edição



QUESTIONÁRIO (escrito)

4955

A PREENCHER PELO PARTICIPANTE (EM MAIÚSCULAS)

Estabelecimento de Ensino: _____

Nome do Aluno: _____

Ano de escolaridade: _____º




Turma: _____

N.º _____

Data de nascimento: ____/____/____

Data de realização do questionário: 201__/__/__

ATENÇÃO: Para cada afirmação/pergunta, apenas existe uma opção de resposta verdadeira. Faz uma circunferência (O) em torno dessa mesma resposta.

Número das questões	Questões	Penalizações parciais (20 pontos por cada resposta errada)
1	O Tiago, que tem 8 anos, vai todos os dias de bicicleta para a escola. Para não se expor ao perigo dos veículos a motor, fá-lo sobre os passeios. Como classificas a opção do Tiago? A) Correta B) Incorreta	
2	Que significa a sinalização que o ciclista está a realizar? A) Vai virar à direita; B) Vai virar à esquerda.	
3	Como é que esta menina se deve comportar? A) Avançar, se não houver veículos a aproximar-se. B) Parar sempre, mesmo que não se aproximem veículos.	
4	O que significa o sinal apresentado? A) Obrigatório ceder a passagem. B) Obrigatório a circulação de peões. C) Proibida a passagem a peões.	
5	É aconselhado o uso do cinto de segurança mas por lei não é obrigatório. A – Verdadeiro B – Falso	
Total de Penalizações		



Projeto de Enriquecimento e Complemento Curricular
Plano Regional de Educação Rodoviária (PRER) 2017/2018
Projeto E - Taça Escolar de Educação Rodoviária – Fase Concelhia

Categoria A – 1º Ciclo do Ensino Básico - 11ª Edição



QUESTIONÁRIO (escrito)

5420

A PREENCHER PELO PARTICIPANTE (EM MAIÚSCULAS)

Estabelecimento de Ensino: _____

Nome do Aluno: _____

Ano de escolaridade: _____º




Turma: _____

N.º _____

Data de nascimento: ____/____/____

Data de realização do questionário: 201_/_/____

ATENÇÃO: Para cada afirmação/pergunta, apenas existe uma opção de resposta verdadeira. Faz uma circunferência (O) em torno dessa mesma resposta.

Número das questões	Questões	Penalizações parciais (20 pontos por cada resposta errada)
1	Que significa a sinalização que o ciclista está a realizar? A) Vai virar à direita; B) Vai virar à esquerda. 	
2	É aconselhado o uso do cinto de segurança mas por lei não é obrigatório. A – Verdadeiro B – Falso	
3	Quem anda de bicicleta, até aos dez anos pode circular nos passeios. A – Verdadeiro B – Falso	
4	Para conduzir um veículo a motor na via pública basta saber fazê-lo, não sendo necessário estar legalmente habilitado para o efeito. A) Verdadeiro B) Falso	
5	A que grupos pertencem os sinais de trânsito apresentados? A) Perigo e informação; B) Obrigação e Perigo; C) Cedência e proibição; D) Informação e obrigação.  	
Total de Penalizações		



Projeto de Enriquecimento e Complemento Curricular
Plano Regional de Educação Rodoviária (PRER) 2017/2018
Projeto E - Taça Escolar de Educação Rodoviária – Fase Concelhia

Categoria A – 1º Ciclo do Ensino Básico - 11ª Edição



QUESTIONÁRIO (escrito)

5651

A PREENCHER PELO PARTICIPANTE (EM MAIÚSCULAS)

Estabelecimento de Ensino: _____

Nome do Aluno: _____

Ano de escolaridade: _____º




Turma: _____

N.º _____

Data de nascimento: ____/____/____

Data de realização do questionário: 201_/_/_

ATENÇÃO: Para cada afirmação/pergunta, apenas existe uma opção de resposta verdadeira. Faz uma circunferência (O) em torno dessa mesma resposta.

Número das questões	Questões	Penalizações parciais (20 pontos por cada resposta errada)
1	É aconselhado o uso do cinto de segurança mas por lei não é obrigatório. A – Verdadeiro B – Falso	
2	O ciclista A deve: A) Passar antes dos outros dois veículos. B) Passar depois dos outros dois veículos. C) Passar depois do automóvel e antes do ciclista B.	
3	  	
	Dos sinais apresentados algum pertence ao grupo dos sinais de perigo? A – Sim B – Não	
4	Em caso de um acidente rodoviário com um motociclo, devemos de imediato socorrer a vítima e retirar-lhe o capacete o mais rápido possível. A – Verdadeiro B – Falso	
5	Dois ciclistas podem circular a par. A – Verdadeiro B - Falso	
Total de Penalizações		



QUESTIONÁRIO (escrito)

5725

A PREENCHER PELO PARTICIPANTE (EM MAIÚSCULAS)

Estabelecimento de Ensino: _____

Nome do Aluno: _____

Ano de escolaridade: _____º



Turma: _____

N.º _____

Data de nascimento: ____/____/____

Data de realização do questionário: 201__/__/__

ATENÇÃO: Para cada afirmação/pergunta, apenas existe uma opção de resposta verdadeira. Faz uma circunferência (O) em torno dessa mesma resposta.

Número das questões	Questões	Penalizações parciais (20 pontos por cada resposta errada)
1	<p>O ciclista comporta-se corretamente?</p> <p>A) Sim, porque pode virar à esquerda. B) Não, porque naquele local não se pode virar à esquerda. C) Não, porque naquele local só se pode ir em frente.</p> 	
2	<p>É proibido entrar, sair ou abrir as portas dos veículos sem que estes estejam completamente imobilizados.</p> <p>A – Verdadeiro B – Falso</p>	
3	<p>O atravessamento da faixa de rodagem deve fazer-se o mais lentamente possível para não correr o risco de tropeçar.</p> <p>A – Verdadeiro B – Falso</p>	
4	<p>Como ciclista posso transitar na via rápida desde que leve capacete.</p> <p>A – Verdadeiro B – Falso</p>	
5	<p>A que grupos pertencem os sinais de trânsito apresentados?</p> <p>A) Perigo e informação; B) Obrigação e Perigo; C) Cedência e proibição; D) Informação e obrigação</p> 	
Total de Penalizações		



Projeto de Enriquecimento e Complemento Curricular
Plano Regional de Educação Rodoviária (PRER) 2017/2018
 Projeto E - Taça Escolar de Educação Rodoviária – Fase Concelhia

Categoria A – 1º Ciclo do Ensino Básico – 11ª Edição



QUESTIONÁRIO (escrito)

6015

A PREENCHER PELO PARTICIPANTE (EM MAIÚSCULAS)


Estabelecimento de Ensino: _____

Nome do Aluno: _____

Ano de escolaridade: _____º Turma: _____ N.º _____

Data de nascimento: ____/____/____ Data de realização do questionário: 201__/__/__

ATENÇÃO: Para cada afirmação/pergunta, apenas existe uma opção de resposta verdadeira. Faz uma circunferência (O) em torno dessa mesma resposta.

Número das questões	Questões	Penalizações parciais (20 pontos por cada resposta errada)
1	<p>O peão da imagem está a caminhar no sítio adequado?</p> <p>A - Sim, pois encontra-se numa pista obrigatória para peões e velocípedes</p> <p>B - Não, porque está numa pista destinada apenas a ciclistas</p> 	
2	<p>Em Portugal, as crianças até 1,35m e menos de 12 anos de idade têm de sentar-se num sistema de retenção adequado ao seu tamanho e peso.</p> <p>A – Verdadeiro B – Falso</p>	
3	<p>Quando andas de bicicleta e queres mudar de direção debes:</p> <p>A – Verificar se atrás não há veículos perto.</p> <p>B – Fazer sinal com o braço.</p> <p>C – Abrandar, parar se houver veículos a aproximar-se, e só avançar, de acordo com a regra geral de cedência de passagem ou sinalização existente.</p> <p>D – Todas estão corretas.</p>	
4	<p>Quando te deslocas a pé num túnel ou à noite, debes vestir roupas de cor clara para te tornares mais visível.</p> <p>A) Verdadeiro B) Falso</p>	
5	<p>Como ciclista posso transitar na via rápida desde que leve capacete.</p> <p>A – Verdadeiro B – Falso</p>	
Total de Penalizações		



Projeto de Enriquecimento e Complemento Curricular
Plano Regional de Educação Rodoviária (PRER) 2017/2018
 Projeto E - Taça Escolar de Educação Rodoviária – Fase Concelhia

Categoria B – 2º Ciclo do Ensino Básico – 11ª Edição



QUESTIONÁRIO (escrito)

6156

A PREENCHER PELO PARTICIPANTE (EM MAIÚSCULAS)




Estabelecimento de Ensino: _____

Nome do Aluno: _____

Ano de escolaridade: _____º Turma: _____ N.º _____

Data de nascimento: ____/____/____ Data de realização do questionário: 201__/__/__

ATENÇÃO: Para cada afirmação/pergunta, apenas existe uma opção de resposta verdadeira. Faz uma circunferência (O) em torno dessa mesma resposta.

Número das questões	Questões	Penalizações parciais (20 pontos por cada resposta errada)
1	Qual dos seguintes sinais indica sentido proibido? A)  B)  C) 	
2	Como ciclista posso transitar na via rápida desde que leve capacete. A – Verdadeiro B – Falso	
3	É proibido entrar, sair ou abrir as portas dos veículos sem que estes estejam completamente imobilizados. A – Verdadeiro B – Falso	
4	Na sinalização luminosa, os sinais para os condutores são: A – Tricolores: Vermelho, amarelo e verde B – Bicolores: Vermelho e verde C – Tricolores: Vermelho, laranja e verde D – Bicolores: Vermelho e amarelo	
5	Dois ciclistas podem circular a par. A – Verdadeiro B - Falso	
Total de Penalizações		



Projeto de Enriquecimento e Complemento Curricular
Plano Regional de Educação Rodoviária (PRER) 2017/2018
 Projeto E - Taça Escolar de Educação Rodoviária – Fase Concelhia

Categoria A – 1º Ciclo do Ensino Básico - 11ª Edição



QUESTIONÁRIO (escrito)

6344

A PREENCHER PELO PARTICIPANTE (EM MAIÚSCULAS)



Estabelecimento de Ensino: _____

Nome do Aluno: _____

Ano de escolaridade: _____º Turma: _____ N.º _____

Data de nascimento: ____/____/____ Data de realização do questionário: 201____/____/____

ATENÇÃO: Para cada afirmação/pergunta, apenas existe uma opção de resposta verdadeira. Faz uma circunferência (O) em torno dessa mesma resposta.

Número das questões	Questões	Penalizações parciais (20 pontos por cada resposta errada)
1	O que significa o seguinte sinal de trânsito? A) Existe uma passagem para peões. B) Existe uma escola nas proximidades. C) Proibido a passagem de peões. 	
2	Dois ciclistas podem circular a par. A – Verdadeiro B - Falso	
3	O peão da imagem está a caminhar no sítio adequado? A - Sim, pois encontra-se numa pista obrigatória para peões e velocípedes B - Não, porque está numa pista destinada apenas a ciclistas 	
4	É proibido entrar, sair ou abrir as portas dos veículos sem que estes estejam completamente imobilizados. A – Verdadeiro B – Falso	
5	Na sinalização luminosa, os sinais para os condutores são: A – Tricolores: Vermelho, amarelo e verde B – Bicolores: Vermelho e verde C – Tricolores: Vermelho, laranja e verde D – Bicolores: Vermelho e amarelo	
Total de Penalizações		